

EXERCICE 1 Étude d'une famille de fonctions

6 points

A tout entier naturel n non nul on associe la fonction f_n définie sur \mathbb{R} par $f_n(x) = \frac{4e^{nx}}{e^{nx}+7}$.

On note C_n la courbe représentative de f_n dans un repère orthonormal $(O; \vec{i}, \vec{j})$.

Partie A : Étude de la fonction f_1 définie sur \mathbb{R} par $f_1(x) = \frac{4e^x}{e^x+7}$

1. a) Démontrez que la courbe C_1 admet deux asymptotes dont on précisera les équations.

Nous devons déterminer les limites de f_1 en $-\infty$ et $+\infty$.

En $-\infty$: $\lim_{x \rightarrow -\infty} e^x = 0$ donc $\lim_{x \rightarrow -\infty} f_1(x) = 0$ car de la forme « $\frac{4 \times 0}{0+7}$ »

Donc en $-\infty$ C_1 admet une première asymptote horizontale : la droite d'équation $y=0$.

En $+\infty$, nous avons une forme indéterminée « $\frac{+\infty}{+\infty}$ » donc nous factorisons le dénominateur par e^x puis simplifions pour lever l'indétermination :

$f_1(x) = \frac{4e^x}{e^x(1+7e^{-x})} = \frac{4}{1+7e^{-x}}$. Or $\lim_{x \rightarrow +\infty} e^{-x} = 0$ donc $\lim_{x \rightarrow +\infty} f_1(x) = 4$ car de la forme « $\frac{4}{1+7 \times 0}$ »

Donc en $+\infty$ C_1 admet une deuxième asymptote horizontale : la droite d'équation $y=4$.

b) Démontrez que la fonction f_1 est strictement croissante sur \mathbb{R} .

f_1 est dérivable sur \mathbb{R} comme quotient de fonctions dérivables sur \mathbb{R} .

Nous utilisons la formule de dérivation $\left(\frac{u}{v}\right)' = \frac{u'v - uv'}{v^2}$.

$f'_1(x) = \frac{4e^x(e^x+7) - 4e^x \times e^x}{(e^x+7)^2} = \frac{28e^x}{(e^x+7)^2}$, or pour tout x réel, $e^x > 0$ donc, pour tout x réel, $f'_1(x) > 0$.

f_1 est strictement croissante sur \mathbb{R} .

c) Démontrez que pour tout réel x , $0 < f_1(x) < 4$.

$f_1(x) = \frac{4e^x}{e^x+7} > 0$ puisque, pour tout x réel, $e^x > 0$.

D'autre part la résolution de $\frac{4e^x}{e^x+7} < 4$ équivaut à $\frac{e^x}{e^x+7} < 1$ qui équivaut à $e^x < e^x+7$ c'est à dire $0 < 7$,

ce qui est vrai quelque soit x donc nous avons bien : pour tout réel x , $0 < f_1(x) < 4$

2. a) Déterminez les coordonnées de I_1 , intersection de la droite (d) d'équation $y=2$ et de la courbe C_1

Nous devons résoudre l'équation $\frac{4e^x}{e^x+7} = 2$ qui équivaut à $4e^x = 2e^x + 14 \Leftrightarrow 2e^x = 14 \Leftrightarrow e^x = 7$

d'où $x = \ln(7)$ d'où les coordonnées du point d'intersection $I_1(\ln(7); 2)$

b) Déterminez une équation de la tangente (T_1) à la courbe C_1 au point I_1

Nous connaissons la forme générale d'une tangente à C_1 au point d'abscisse a :

$y = f_1'(a)(x-a) + f_1(a)$ ici $a = \ln(7)$. Calculons $f_1(\ln(7))$ et $f'_1(\ln(7))$

$f_1(\ln(7)) = \frac{4e^{\ln(7)}}{e^{\ln(7)}+7} = \frac{4 \times 7}{7+7} = \frac{28}{14} = 2$

$$f'_1(\ln 7) = \frac{28 e^{\ln 7}}{(e^{\ln 7} + 7)^2} = \frac{28 \times 7}{(7+7)^2} = \frac{28 \times 7}{14 \times 14} = 1$$

donc une équation de la tangente (T_1) à la courbe C_1 au point I_1 est : $y = 1(x - \ln(7)) + 2$ c'est à dire $y = x + 2 - \ln(7)$.

3. a) Montrez que pour tout réel $m \in]0; 4[$, l'équation $f_1(x) = m$ admet une solution unique dans \mathbb{R} . On notera a cette solution.

Le tableau de variation de f_1 permet de comprendre :

x	$-\infty$	a	$+\infty$
Signe de $f'_1(x)$		+	
Variations de f_1	0		4

- f_1 est continue sur \mathbb{R} car dérivable sur \mathbb{R}
- f_1 est strictement croissante sur \mathbb{R}
- $m \in]0; 4[$ donc d'après le corollaire du théorème des valeurs intermédiaires, l'équation $f_1(x) = m$ admet une unique solution dans \mathbb{R}

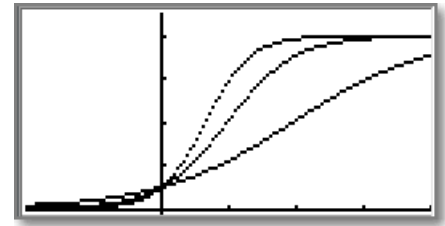
b) Déterminez l'expression exacte de a en fonction de m .

On résout $\frac{4e^x}{e^x + 7} = m$ qui équivaut à $4e^x = m e^x + 7m \Leftrightarrow (4-m)e^x = 7m \Leftrightarrow e^x = \frac{7m}{4-m}$, $m \in]0; 4[$ donc

l'expression $\frac{7m}{4-m}$ est bien strictement positive. Nous appliquons la fonction logarithme pour obtenir la solution $a = \ln\left(\frac{7m}{4-m}\right)$

Partie B : Étude de certaines propriétés de f_n

1. Matthieu ayant étudié f_1 , et ayant affiché sur l'écran de sa calculatrice C_1 , C_2 et C_3 , voir ci-contre, fait les conjectures suivantes :



- Quelque soit n , entier naturel non nul, les courbes C_n admettent les mêmes asymptotes
- Ces courbes semblent toutes passer par le point $A(0; \frac{1}{2})$.
- Les fonctions f_n semblent être strictement croissantes.

Validez les conjectures de Matthieu.

• Pour les asymptotes, nous reprenons la même démarche que pour f_1

Nous devons déterminer les limites de $f_n(x) = \frac{4e^{nx}}{e^{nx} + 7}$ en $-\infty$ et $+\infty$, quelque soit n entier naturel non nul.

En $-\infty$: $\lim_{x \rightarrow -\infty} e^{nx} = 0$ donc $\lim_{x \rightarrow -\infty} f_n(x) = 0$ car de la forme « $\frac{4 \times 0}{0 + 7}$ »

Donc en $-\infty$ C_n admet une asymptote horizontale : la droite d'équation $y = 0$.

En $+\infty$, nous avons une forme indéterminée « $\frac{+\infty}{+\infty}$ » donc nous factorisons le dénominateur par e^{nx} puis simplifions pour lever l'indétermination :

$f_n(x) = \frac{4e^{nx}}{e^{nx}(1+7e^{-nx})} = \frac{4}{1+7e^{-nx}}$. Or $\lim_{x \rightarrow +\infty} e^{-nx} = 0$ donc $\lim_{x \rightarrow +\infty} f_n(x) = 4$ car de la forme « $\frac{4}{1+7 \times 0}$ »

Donc en $+\infty$ C_n admet une asymptote horizontale : la droite d'équation $y=4$.

Quelque soit n , entier naturel non nul, les courbes C_n admettent les mêmes asymptotes horizontales que C_1

• Calculons $f_n(0)$ quelque soit $n \geq 1$

$f_n(0) = \frac{4e^0}{e^0+7} = \frac{4}{8} = \frac{1}{2}$. Ceci montre que le point $A(0; \frac{1}{2})$ appartient à toutes les courbes C_n

• Dérivation de f_n

$f'_n(x) = \frac{4ne^{nx}(e^{nx}+7) - 4e^{nx} \times ne^{nx}}{(e^{nx}+7)^2} = \frac{28ne^{nx}}{(e^{nx}+7)^2}$, expression strictement positive sur \mathbb{R} quelque soit $n \geq 1$

Donc les fonctions f_n sont strictement croissantes.

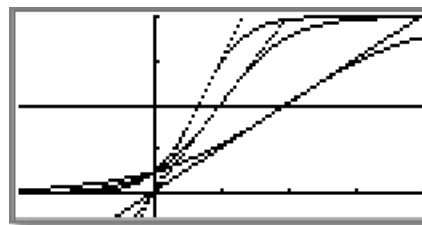
2. a) Montrez que pour tout entier naturel n non nul la courbe C_n et la droite d'équation $y=2$ ont un unique point d'intersection dont on précisera les coordonnées. On note I_n ce point.

on résout $f_n(x) = 2$

$\frac{4e^{nx}}{e^{nx}+7} = 2$ qui équivaut à $4e^{nx} = 2e^{nx} + 14 \Leftrightarrow 2e^{nx} = 14 \Leftrightarrow e^{nx} = 7$

d'où $nx = \ln(7) \Leftrightarrow x = \frac{\ln(7)}{n}$ d'où les coordonnées du point

d'intersection $I_n\left(\frac{\ln(7)}{n}; 2\right)$



b) Déterminez une équation de la tangente (T_n) à la courbe C_n au point I_n .

Calculons $f_n\left(\frac{\ln(7)}{n}\right)$ et $f'_n\left(\frac{\ln(7)}{n}\right)$

$$f_n\left(\frac{\ln(7)}{n}\right) = \frac{4e^{n \cdot \frac{\ln(7)}{n}}}{e^{n \cdot \frac{\ln(7)}{n}} + 7} = \frac{4 \times 7}{7+7} = 2$$

$$f'_n\left(\frac{\ln(7)}{n}\right) = \frac{28ne^{n \cdot \frac{\ln(7)}{n}}}{(e^{n \cdot \frac{\ln(7)}{n}} + 7)^2} = \frac{28n \times 7}{14 \times 14} = n$$

Une équation de la tangente (T_n) à la courbe C_n au point I_n est donc

$$y = n\left(x - \frac{\ln(7)}{n}\right) + 2 = nx - \ln(7) + 2,$$

c) Matthieu affiche les tangentes (T_1) , (T_2) et (T_3) et constate que ces tangentes semblent concourir en un même point proche de l'origine O du repère.

Montrez que les tangentes (T_n) sont concourantes c'est à dire qu'elles se rencontrent toutes en un même point.

Les tangentes (T_n) ont toutes la même ordonnée à l'origine : elles coupent l'axe des ordonnées au point $P(0; 2 - \ln(7))$ avec $2 - \ln(7) \approx 0,05$ donc P est effectivement proche de l'origine O du repère

Les trois questions suivantes sont indépendantes

Question 1

Démontrer de deux façons différentes que, quelque soit le nombre complexe z , le nombre $(z-i)(\bar{z}+i)$ est un réel positif.

Méthode 1 : en utilisant la propriété du cours suivante :

Pour tout $Z \in \mathbb{C}$: $Z\bar{Z} = X^2 + Y^2$ est un réel positif, où $Z = X + iY$, X et Y réels.

Ici, $Z = z - i$, $\bar{Z} = \bar{z} + i$ et $(z-i)(\bar{z}+i) = Z\bar{Z}$ est bien un réel positif

Méthode 2 : on pose $z = x + iy$ et on développe :

$$(z-i)(\bar{z}+i) = (x+iy-i)(x-iy+i) = x^2 + y^2 - y - y + 1 + i(-xy + x + xy - x) = x^2 + y^2 - 2y + 1 = x^2 + (y-1)^2$$

Le résultat est bien un nombre réel positif quelque soit z

Question 2

Soit f la fonction définie sur \mathbb{C} par $f(z) = z^2 - \bar{z}$ où z est un nombre complexe de forme algébrique

$z = x + iy$, x et y étant deux réels.

a. Exprimer en fonction de x et de y la partie réelle et la partie imaginaire de $f(z)$.

$$f(z) = z^2 - \bar{z} = (x+iy)^2 - (x-iy) = x^2 + 2ixy - y^2 - x + iy = x^2 - y^2 - x + i(y + 2xy)$$

La partie réelle de $f(z)$ est donc $x^2 - y^2 - x$ et sa partie imaginaire $y + 2xy = y(1 + 2x)$

b. Résoudre dans \mathbb{C} l'équation $f(z) = 2$

Deux nombres complexes sont égaux si et seulement si leurs parties réelles sont égales et leurs parties imaginaires sont égales :

$$f(z) = 2 \text{ équivaut à } \begin{cases} x^2 - y^2 - x = 2 \\ y(1 + 2x) = 0 \end{cases} \text{ ceci équivaut à } (S_1) \begin{cases} x^2 - y^2 - x = 2 \\ y = 0 \end{cases} \text{ ou } (S_2) \begin{cases} x^2 - y^2 - x = 2 \\ x = \frac{-1}{2} \end{cases}$$

(S_1) équivaut à $\begin{cases} x^2 - x - 2 = 0 \\ y = 0 \end{cases} \Leftrightarrow \begin{cases} (x+1)(x-2) = 0 \\ y = 0 \end{cases}$ qui donne deux solutions réelles $z_1 = -1$ correspondant à $(x = -1; y = 0)$ et $z_2 = 2$ correspondant à $(x = 2; y = 0)$

$$(S_2) \text{ équivaut à } \begin{cases} \frac{1}{4} - y^2 + \frac{1}{2} = 2 \\ x = \frac{-1}{2} \end{cases} \Leftrightarrow \begin{cases} y^2 = \frac{-5}{4} \\ x = \frac{-1}{2} \end{cases} \text{ or } y \text{ est un réel donc } y^2 \text{ est un nombre positif donc } (S_2) \text{ n'a}$$

pas de solutions

Conclusion : l'équation $f(z) = 2$ a deux solutions réelles $z_1 = -1$ et $z_2 = 2$

Question 3

On considère l'équation (E) : $z^4 = -4$ où z est un nombre complexe.

a. Montrer que si le nombre complexe z est solution de l'équation (E) alors les nombres complexes $-z$ et \bar{z} sont aussi solutions de l'équation (E).

si $z^4 = -4$ alors $(-z)^4 = (z)^4 = -4$ donc $-z$ est aussi solution de (E)

si $z^4 = -4$ alors $\overline{z^4} = \overline{-4}$ or $\overline{z^4} = (\overline{z})^4$ donc $(\overline{z})^4 = -4$ donc \overline{z} est aussi solution de (E)

b. On considère le nombre complexe $z_0 = 1 + i$.

Montrer que z_0 est solution de l'équation (E) en calculant z_0^2 puis z_0^4 .

$z_0^2 = (1+i)^2 = 1 + 2i - 1 = 2i$ donc $z_0^4 = (2i)^2 = 4i^2 = -4$ donc z_0 est solution de (E)

c. Dédurre des deux questions précédentes les trois autres solutions de l'équation (E). Justifiez.

On en déduit que $-z_0$ et $\overline{z_0}$ sont aussi solutions de (E), ainsi que $(-z_0)$
donc les quatre solutions de (E) sont $1+i$; $-1-i$; $1-i$; $-1+i$

On considère la fonction f définie sur l'intervalle $[0; +\infty[$ par $f(x) = 5 - \frac{4}{x+2}$

On a tracé en annexe dans un repère orthonormé la courbe C représentative de f ainsi que la droite D d'équation $y=x$.

1. Démontrer que f est croissante sur l'intervalle $[0; +\infty[$.

f est dérivable sur $[0; +\infty[$.

On utilise la formule de dérivation $\left(\frac{1}{u(x)}\right)' = \frac{-(u(x))'}{(u(x))^2}$ avec $u(x) = x+2$ et $u'(x) = 1$

$$f'(x) = 0 - 4 \times \frac{-1}{(x+2)^2} = \frac{4}{(x+2)^2} > 0 \text{ sur } [0; +\infty[.$$

Donc la fonction f est strictement croissante sur $[0; +\infty[$.

2. Résoudre l'équation $f(x) = x$ sur l'intervalle $[0; +\infty[$. On note α la solution.

On donnera la valeur exacte de α puis on en donnera une valeur approchée à 10^{-2} près.

On résout dans $[0; +\infty[$ l'équation $f(x) = x$:

$f(x) = x$ équivaut à $5 - \frac{4}{x+2} = x$. On réduit au même dénominateur $\frac{5(x+2) - 4 - x(x+2)}{x+2} = 0$ ce qui

équivaut à $\frac{5x+10-4-x^2-2x}{x+2} = 0 \Leftrightarrow \frac{-x^2+3x+6}{x+2} = 0$. Or $\frac{A}{B} = 0 \Leftrightarrow A = 0$ et $B \neq 0$

Sur $[0; +\infty[$, $x+2 > 0$ donc $f(x) = x$ équivaut à $-x^2+3x+6 = 0$

On résout cette équation du second degré en calculant son discriminant. $\Delta = 9 - 4 \times 6 \times (-1) = 33 > 0$.

Les deux solutions réelles sont donc $\frac{-3 - \sqrt{33}}{-2} = \frac{3 + \sqrt{33}}{2}$ et $\frac{3 - \sqrt{33}}{2}$

La deuxième solution est négative donc l'unique solution de l'équation $f(x) = x$ dans l'intervalle

$[0; +\infty[$ est $\alpha = \frac{3 + \sqrt{33}}{2} \approx 4,37$

3. On considère la suite (u_n) définie par $u_0 = 1$ et, pour tout entier naturel n , $u_{n+1} = f(u_n)$.

Sur la figure de l'annexe, en utilisant la courbe C et la droite D , placer les points M_0 , M_1 et M_2 d'ordonnée nulle et d'abscisses respectives u_0 , u_1 et u_2 .

(On laissera les traits de construction bien visibles sur le graphique)

Quelles conjectures peut-on faire sur le sens de variation et la convergence de la suite (u_n) ?

Voici la construction ci-contre :

On peut conjecturer que la suite (u_n) est croissante et converge rapidement vers α .

4. a. Démontrer, par récurrence, que, pour tout entier naturel n , $0 \leq u_n \leq u_{n+1} \leq \alpha$ où α est le réel défini dans la question 2.

Soit la proposition $P(n)$: $0 \leq u_n \leq u_{n+1} \leq \alpha$

• Initialisation

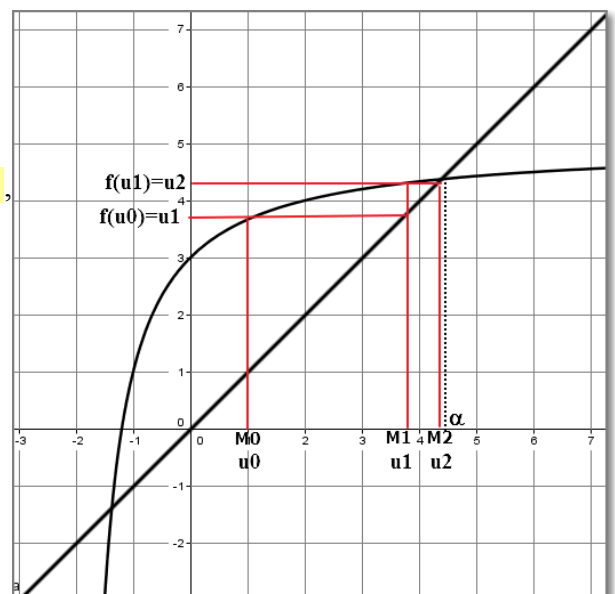
Pour $n=0$, cette proposition s'écrit $0 \leq u_0 \leq u_1 \leq \alpha$ or

$$u_0 = 1 \text{ et } u_1 = f(u_0) = 5 - \frac{4}{1+2} = \frac{11}{3} \approx 3,7$$

On a $0 \leq 1 \leq \frac{11}{3} \leq \alpha$: la proposition est vraie au rang 0.

• Hérédité

Supposons la proposition vraie à un rang n donné, $n \geq 0$, autrement dit supposons que $0 \leq u_n \leq u_{n+1} \leq \alpha$, montrons



qu'alors $0 \leq u_{n+1} \leq u_{n+2} \leq \alpha$.

Preuve :

On sait d'après la question 1 que la fonction f est strictement croissante sur $[0; +\infty[$, cette fonction conserve donc l'ordre sur les positifs : donc si $0 \leq u_n \leq u_{n+1} \leq \alpha$ alors $f(0) \leq f(u_n) \leq f(u_{n+1}) \leq f(\alpha)$ or $f(0)=3$, $f(u_n)=u_{n+1}$ et $f(u_{n+1})=u_{n+2}$.

De plus, α est solution de l'équation $f(x)=x$ donc $f(\alpha)=\alpha$.

On a donc $0 \leq 3 \leq u_{n+1} \leq u_{n+2} \leq \alpha$: l'hérédité est vérifiée.

• Conclusion

La proposition est vraie au rang 0 et elle est héréditaire, donc, d'après l'axiome de récurrence, elle est vraie pour tout entier naturel n .

On a donc démontré que, pour tout entier naturel n , $0 \leq u_n \leq u_{n+1} \leq \alpha$

b. Peut-on affirmer que la suite (u_n) est convergente ? On justifiera la réponse.

D'après ce qui précède la suite (u_n) est croissante et majorée par α .

Donc, d'après le théorème de la convergence monotone, la suite (u_n) est convergente.

5. Pour tout entier naturel n , on définit la suite (S_n) par $S_n = \sum_{k=0}^n u_k = u_0 + u_1 + \dots + u_n$.

a. Calculer S_0 , S_1 et S_2 . Donner une valeur approchée des résultats à 10^{-2} près.

$$S_0 = u_0 = 1 ; S_1 = u_0 + u_1 = 1 + \frac{11}{3} = \frac{14}{3} \approx 4,67 ; S_2 = u_0 + u_1 + u_2 = S_1 + u_2 ; u_2 = f(u_1) = f\left(\frac{11}{3}\right) = \frac{73}{17}$$

$$\text{donc } S_2 = \frac{14}{3} + \frac{73}{17} = \frac{457}{51} \approx 8,96$$

b. Écrire en langage naturel un algorithme qui affiche la somme S_n pour la valeur de l'entier n entrée par l'utilisateur.

On utilisera une boucle **Tant que** ou une boucle **Pour**

Les variables sont les réels U et S et les entiers naturels k et N .

Boucle Pour

Boucle Tant Que

Entrée : Saisir le nombre entier naturel N
Initialisation : U prend la valeur 1
 S prend la valeur U
Traitement : Pour k allant de 1 à N
Affecter à U la valeur $5 - \frac{4}{U+2}$
Affecter à S la valeur $S + U$
Fin Pour
Sortie : Afficher S

Entrée : Saisir le nombre entier naturel N .
Initialisation : U prend la valeur 1
 S prend la valeur U
 k prend la valeur 0
Traitement : Tant que $k < N$
Affecter à k la valeur $k + 1$
Affecter à U la valeur $5 - \frac{4}{U+2}$
Affecter à S la valeur $S + U$
Fin Tant que
Sortie : Afficher S

Pour les candidats n'ayant pas suivi l'enseignement de spécialité.

Des robots se trouvent au centre de gravité O d'un triangle de sommets S, I et X.

Chacun se déplace en trois étapes successives de la manière suivante :

— à chaque étape, il passe par l'un des trois sommets S, I ou X puis il rejoint le point O

— les robots sont programmés de telle sorte que, lors d'une étape, la probabilité de passer par le sommet S est égale à celle de passer par le sommet X et la probabilité de passer par le sommet S est le double de celle de passer par le sommet I

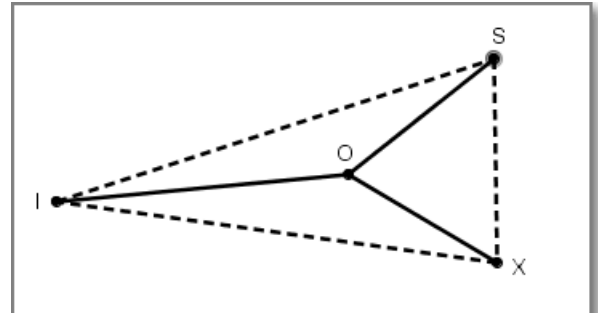
— les différentes étapes sont indépendantes les unes des autres

— on ne tient pas compte des passages par O

Exemple de trajet complet pour un robot :

Départ de O, passage par S, retour en O, passage par X, retour en O, passage par S, retour en O.

Ce trajet peut être résumé par S -X - S

**Partie A - Un seul robot**

Un seul robot se trouve au point O.

- Démontrer qu'à chaque étape, la probabilité que le robot passe par le sommet I est égale à $\frac{1}{5}$

Pour chaque étape, l'arbre ci-contre traduit la situation décrite par l'énoncé : Si l'on note p la probabilité de passer par le sommet I, alors la probabilité de passer par le sommet S est égale à $2p$ ainsi que la probabilité de passer par le sommet X.

D'après la loi des probabilités totales :

$P(S)+P(X)+P(I)=1$ donc $2p+2p+p=1$ donc $5p=1$ c'est à dire $p=\frac{1}{5}=0,2$.

On en déduit que $P(S)=P(X)=\frac{2}{5}$.

- On note E l'événement : « au cours des trois étapes, le robot passe successivement par les 3 sommets S, I et X dans cet ordre ».

Démontrer que la probabilité de E est égale à $\frac{4}{125}$.

L'arbre ci-contre indique tous les chemins possibles pour un robot

L'événement E est réalisé par un seul chemin S - I - X (en rouge).

Les trois étapes étant indépendantes les unes des autres :

$P(E)=P(S) \times P(I) \times P(X) = \frac{2}{5} \times \frac{1}{5} \times \frac{2}{5} = \frac{4}{125}$.

- On note F l'événement : « au cours des trois étapes, le robot passe exactement par les 3 sommets S, I et X dans un ordre quelconque ».

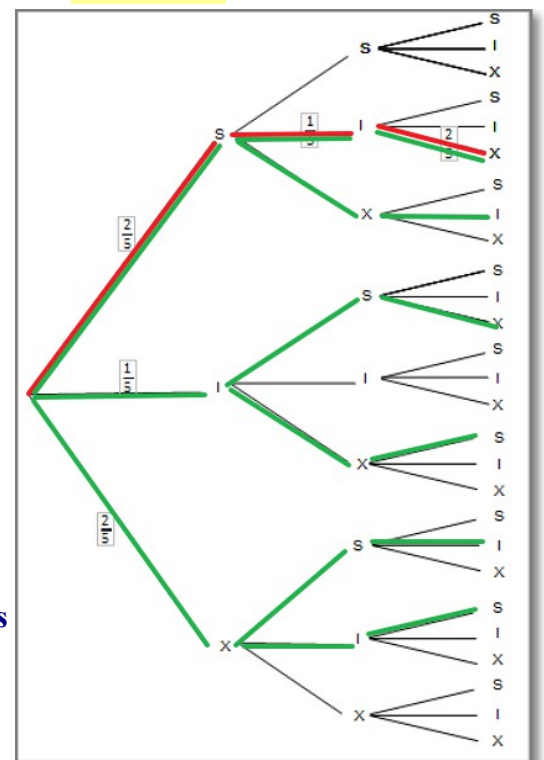
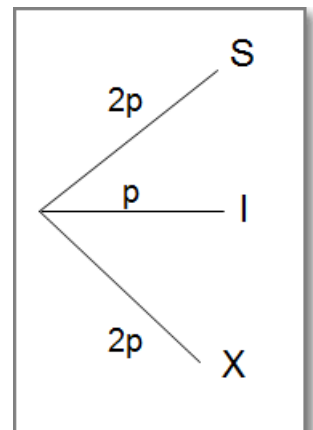
Déterminer la probabilité de F.

La probabilité de F est la somme des probabilités de parcourir les « chemins » : S-I-X, S-X-I, I-S-X, I-X-S, X-S-I et X-I-S (en vert)

Comme on l'a vu à la question précédente la probabilité de

parcourir l'un de ces chemins est égale à $\frac{2}{5} \times \frac{1}{5} \times \frac{2}{5} = \frac{4}{125}$, donc

finalement $P(F) = 6 \times \frac{4}{125} = \frac{24}{125} = 0,192$.



Partie B - Deux robots

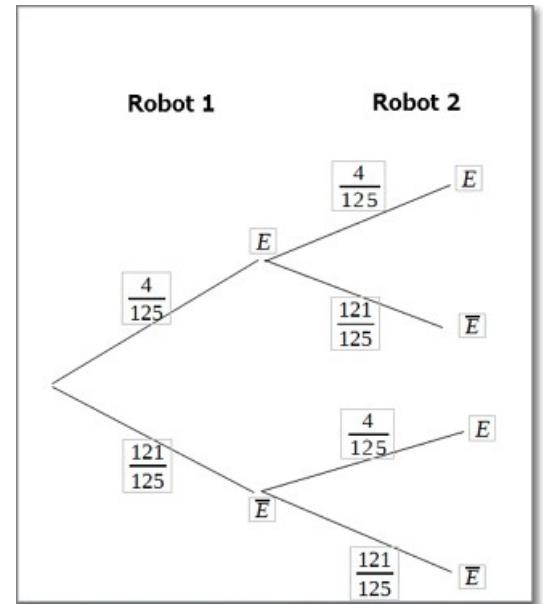
Deux robots se trouvent au point O. Leurs déplacements sont indépendants.

Quelle est la probabilité que les deux robots passent successivement par les sommets S, I et X dans cet ordre ?

Soit E l'événement « le robot parcourt le chemin S-I-X ». Nous avons vu que $P(E) = \frac{4}{125}$

L'arbre ci-contre modélise la situation puisque les déplacements des deux robots sont indépendants donc la probabilité cherchée

est $P(E) \times P(E) = \left(\frac{4}{125}\right)^2 = \frac{16}{15625}$



Partie C – Une équipe de robots !

Des robots se trouvent au point O, leurs déplacements étant indépendants les uns des autres.

Quel nombre minimal n de robots doit-il y avoir pour que la probabilité de l'événement :

« au moins l'un des robots passe successivement par les sommets S, I et X dans cet ordre » soit supérieure ou égale à 0,99 ?

La probabilité qu'un robot ne passe pas par les sommets S, I et X dans cet ordre est d'après les questions précédentes : $P(\bar{E}) = 1 - \frac{4}{125} = \frac{121}{125}$, donc la probabilité qu'aucun des n robots ne passe par les sommets S, I et X dans cet ordre est $\left(\frac{121}{125}\right)^n$

La probabilité qu'au moins un robot passe par les sommets S, I et X dans cet ordre est donc $1 - \left(\frac{121}{125}\right)^n$.

Il faut donc résoudre : $1 - \left(\frac{121}{125}\right)^n \geq 0,99$. Ceci équivaut à $\left(\frac{121}{125}\right)^n \leq 0,01$.

On applique la fonction logarithme népérien qui respecte l'ordre sur les nombres strictement positifs.

De plus $\ln(a^n) = n \ln a$ pour tout réel $a > 0$ donc $n \ln\left(\frac{121}{125}\right) \leq \ln 0,01$

or $0 < \frac{121}{125} < 1$ donc $\ln\left(\frac{121}{125}\right) < 0$ donc $n \ln\left(\frac{121}{125}\right) \leq \ln 0,01$ équivaut à $n \geq \frac{\ln(0,01)}{\ln\left(\frac{121}{125}\right)} \approx 141,6$

Il faut donc au minimum 142 robots pour que la probabilité de l'événement :

« au moins l'un des robots passe successivement par les sommets S, I et X dans cet ordre » soit supérieure ou égale à 0,99