

Note : ..... / 10

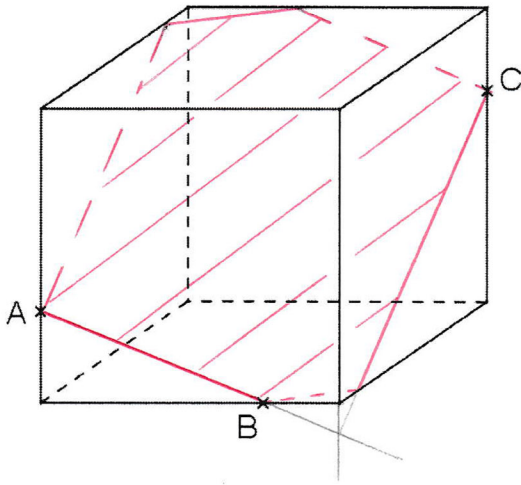
# INTERROGATION de MATHÉMATIQUES

CALCULATRICE NON AUTORISÉE

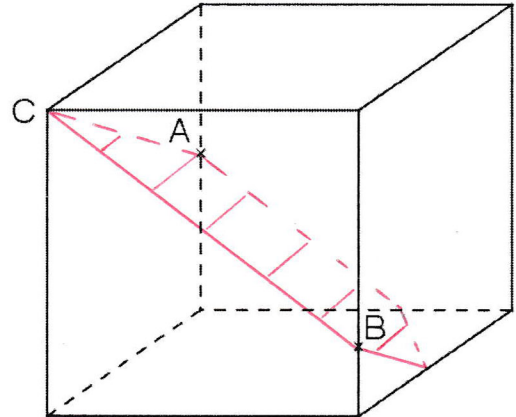
Durée : 20 minutes

Ci-dessous sont représentés des cubes, des pyramides et des prismes droits.  
 Construire la section de chaque solide par le plan indiqué.

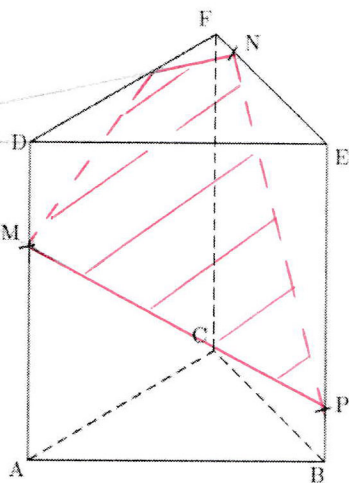
plan (ABC) ..... / 2,5



plan (ABC) ..... / 2,5



plan (MNP) ..... / 2,5



plan (AXZ) ..... / 2,5

